





ابتدایی پسرانه امام حسین (ع) - دوره دوم

سال تحصیلی ۹۹-۱۳۹۸

نام و نام خانوادگی:..... نام معلم: خانم باغشنی

نام درس: ریاضی زمان آزمون:..... تاریخ آزمون: ۱۳۹۸/۱۰/۲۸

۱. با توجه به عدد (۳۴۹۷۰۲) ارزش مکانی کدام رقم بیشتر است؟	الف) ۹	ب) ۷	ج) ۳	د) ۲
۲. در الگوی زیر، عدد بعدی چند است؟ ..... و ۶ و ۲ و ۱	الف) ۸	ب) ۱۴	ج) ۲۰	د) ۲۴
۳. چه کسری از شکل روبرو رنگ شده است؟ 	الف) $\frac{1}{6}$	ب) $\frac{1}{3}$	ج) $\frac{1}{8}$	د) $\frac{1}{16}$
۴. ساعت رو به رو چه عدد مخلوطی را نشان می دهد؟ 	الف) $۸\frac{1}{۲}$	ب) $۸\frac{۶}{۲}$	ج) $۶\frac{۸}{۱۲}$	د) $۸\frac{۳۰}{۲}$
۵. حسن $\frac{۲}{۹}$ یک کتاب را دیروز و $\frac{۱}{۳}$ آن را امروز خوانده است. او روی هم چه کسری از کتاب را خوانده است؟	الف) $\frac{۳}{۹}$	ب) $\frac{۳}{۳}$	ج) $\frac{۵}{۹}$	د) $\frac{۶}{۹}$
۶. کدام گزینه پاسخ حاصل ضرب تقریبی $۴۳ \times ۵۷$ است؟	الف) ۲۴۰۰	ب) ۲۵۰۰	ج) ۳۰۰۰	د) ۲۰۰۰
۷. کسر مساوی $\frac{۱۸}{۳۶}$ کدام است؟	الف) $\frac{۱}{۲}$	ب) $\frac{۱}{۴}$	ج) $\frac{۹}{۱۲}$	د) $\frac{۱}{۱۸}$
۸. با توجه به عدد رو به رو به سوالات پاسخ دهید؟ الف) عدد را به حروف بنویسید؟ ب) این عدد چند رقمی است؟ ج) ارزش مکانی عدد ۴ و عدد ۳ را بنویسید؟ (۲۴۷۰۰۰۳۱)				
۹. کوچک ترین عدد ۶ رقمی با رقم های غیر تکراری بنویسید که طبقه ی یکی های آن ۲۵۶ باشد. آیا این عدد بر ۲ بخش پذیر است؟ چرا؟				
۱۰. طرف دیگر تساوی را بنویسید؟ $۵۰۰۰۰۰ + ۲۰۰۰۰۰ + ۷۰۰۰۰ + ۴۰۰ + ۶ =$				
۱۱. اگر ۹۸ شاخه ی گل را به ۲ قسمت مساوی تقسیم کنیم. هر دسته _____ ده تایی و _____ یکی می شود.				

۱۲) حاصل عبارت های زیر را به دست آورید؟

$$\frac{3}{16} + \frac{4}{8} =$$
$$\left(2 \times \frac{1}{5}\right) - \left(3 \times \frac{1}{5}\right) =$$

۱۳) اگر محمد ۸۰۰ تومان پول داشته باشد، ربع آن را خرج کند، چقدر برایش باقی می ماند؟

۱۴) در جای خالی عدد مناسب بنویسید؟


$$\frac{6}{6} =$$

$$\frac{12}{27} = \frac{\quad}{9}$$

$$\frac{0}{9} =$$

$$\frac{\quad}{4} = \frac{40}{70}$$

۱۵) ضرب را روی شکل نشان دهید و حاصل را به دست آورید؟



$$2 \times \frac{3}{8} =$$

۱۶) ضرب و تقسیم را از راه فرآیندی (گسترده نویسی) انجام دهید؟

۱۷) مدرسه ی امام حسین (ع) دو طبقه است که در هر طبقه ۶ کلاس ساخته شده است. اگر در هر کلاس ۳۲ دانش آموز مشغول به تحصیل باشند، در این مدرسه چند نفر دانش آموز درس می خوانند؟

۱۸) مقایسه کنید؟  $\frac{1}{6}$  ،  $\frac{0}{100}$  ،  $\frac{12}{12}$  ،  $\frac{16}{16}$  ،  $\frac{3}{14}$  ،  $\frac{2}{7}$  ،  $2390051$  ،  $23900041$

۱۹) جدول زیر را کامل کنید.

۲۰) در یک کارتن ۴ ردیف ۶ تایی کلوچه وجود دارد  $\frac{2}{3}$  این کلوچه ها چندتا می شود؟

اهداف ارزشیابی	خیلی خوب	خوب	قابل قبول	نیاز به تلاش بیشتر
«توصیف عملکرد:.....»		«موفق و سر بلند باشید»		

